


Történelem verseny

2. forduló

Téma: Ókor

A feladatlap leadásának határideje:

2018. április 16. (hétfő)



Pontszám:

90 pont /

Név:

Osztály:

1. Írj I-t az igaz, H-t a hamis állítás előtti -be!

12 pont /

- a) Hellaszban a legjelentősebb sportrendezvény az Apollón tiszteletére rendezett Olümpia volt.
- b) Kleiszthenész a vérségi kötelékek és a vagyoni beosztás helyett területi alapon osztotta 10 phülébe Attika lakosságát.
- c) A spártai állam a Balkán-félsziget északnyugati részén található.
- d) A görög-perzsa háború eseményeit megismerhetjük Sallustius művéből.
- e) A római köztársaság választott tisztségviselői többnyire egy évet töltöttek jó fizetés fejében hivatalukban.
- f) Az ókori Rómában a kereskedelemmel, adóberlettel foglalkozó lovagok nem vettek részt a politikai életben.
- g) A krüpteia azt jelentette, hogy a legértelmesebbnek látszó ifjakat időről időre szétküldték a falvakba, hogy írásra tanítsák a földművelőket.
- h) A Laokoón-szoborcsoport tükrözi a Kr. e. V. században jellemző társadalmi harmóniát.
- i) Rómában a consuli hivatalt a collegialitas, az annualitas és a választás intézménye jellemzi.
- j) Tíz év katonai szolgálat után lehetett valakit quaestornak választani.
- k) „Alea iacta est” – mondta a történetírók szerint Caesar, amikor átlépte a Dunát.
- l) Marcus Aurelius többre becsülte a filozófiát, mint a politikai hatalmat.

2. Írd soronként a közös jellemzőt az adatok utáni vonalra!

6 pont /

- a) geometrikus, vörösalakos, feketealakos _____
- b) Livius, Herodotosz, Plutarkhosz _____
- c) Isszosz, Gaugaméla, Granikosz _____
- d) Crassus, Caesar, Pompeius _____
- e) Delphoi, Epidauros, Eleuszisz _____
- f) hajítódárda, bőrborításos pajzs, gladis (kétélű kard) _____

3. KAKUKKTOJÁS – Húzd alá a felsorolásba nem illő elemet, és indokold meg a választásodat! 8 pont /

- a) Vulcanus, Hephaisztosz, Poszeidon _____
b) ephorosz, néptribunus, geruszia _____
c) Cassius, Brutus, Sulla _____
d) Péter, Máté, Márk _____

**4. Nevezd meg az ókor csodáinak tartott emlékek közül ötöt! 10 pont /
Írd be a táblázatba, melyik mai országban található!**

Az ókori csodának tartott emlék:		Melyik mai országban található?	
a)		b)	
c)		d)	
e)		f)	
g)		h)	
i)		j)	

5. Írd a meghatározás utáni vonalra a történelmi fogalmat! 5 pont /

- a) Indiai eredetű vallás, fő tanítása a lélekvándorlás megszüntetésének lehetősége. _____
b) Spártában a dór lakosság politikai jogokkal nem rendelkező része. A városokon kívüli hegyeken laktak és kézműves mesterséget folytattak. _____
c) A római társadalom előkelőinek „pártfogoltjai”. _____
d) „Állami föld.” A hódítások során szerzett földek 1/3-a Róma birtokába került, amelyet az állam saját tulajdonának tekintettek, és ezekből lehetett bérelni. _____
e) Sulla által összeállított lista a megsemmisítendő politikai ellenfeleiről. _____

6. a) Állítsd időrendi sorrendbe az alábbi uralkodók nevét! (Kezd a legkorábban uralkodóval!) 4 pont /

Traianus, Augustus, Constantinus, Nero, Diocletianus, Claudius, Caligula, Caracalla

1. _____ 2. _____ 3. _____ 4. _____

5. _____ 6. _____ 7. _____ 8. _____

b) Kinek a nevéhez kapcsolódik a 212-ben kiadott rendelet? _____

c) Miért volt jelentős ez a rendelet? Fogalmazd meg egy mondatban! _____

7. Írd a vonalra, ki mondta, vagy mondhatta volna! 4 pont /

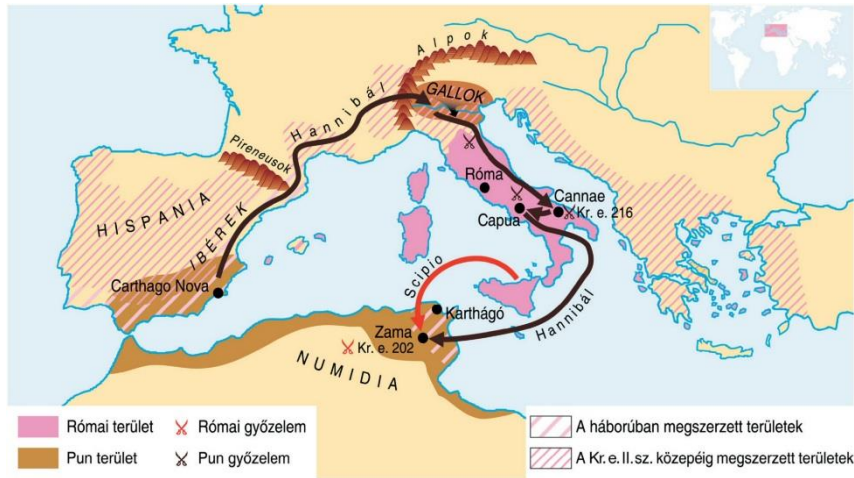
- a) „Hogy lehetlenné váljon a zsarnokság, bevezettem a cserépszavazást.” _____
b) „Támogattam a művészeteket, megerősítettem a régi erkölcsöt, és békét hoztam Rómának.” _____
c) „Határvédelmi rendszert építettem még a veszélyes Britanniában is.” _____
d) „Pannonia helytartójaként én kerültem ki győztesen a hatalmi harcból. Császár lettem.” _____

8. Ismereteid és a térképvázlat alapján válaszolj a kérdésekre!

a) Húzd alá a válaszának megfelelő részt az alábbi mondatban!

Az **első pun háborúhoz** vagy a **második pun háborúhoz** kapcsolható a térképvázlat?

b) Miért érte meglepetésként a rómaiakat a pun sereg támadása? _____



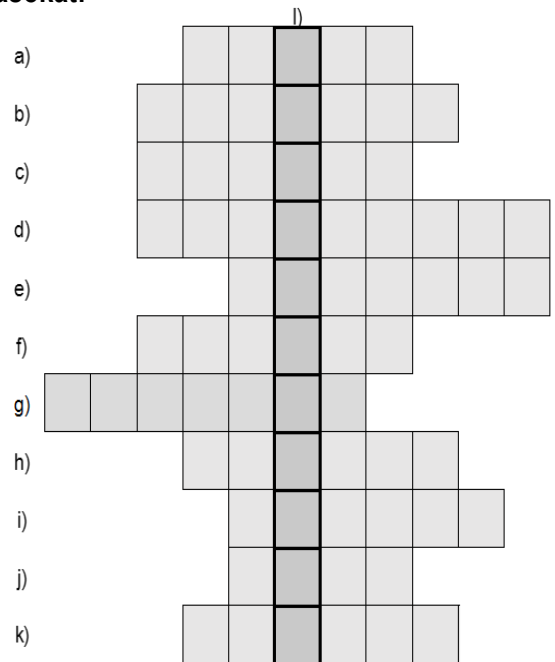
c) Mit jelent a „Hannibal ante portas”? _____

d) Hol volt a háborút lezáró, döntő győzelem? _____

e) Ki volt a győztes hadvezér ebben a csatában? _____

9. Írd be soronként a meghatározásnak megfelelő megoldásokat!

- a) Via..... Rómától Capuán át Brundisiumig vezető út.
- b) A köztársaság idején Rómát irányító testület.
- c) Görög filozófus. Szókratész tanítványa. Művei: Állam, Lakoma.
- d) Gladiátor, a legnagyobb rabszolga felkelés vezetője.
- e) Nehéz fegyverzetű gyalogos katona a görögöknél.
- f) Ellipszis alakú, középen futópályát magában foglaló, ókori római épület, fogathajtó versenyeket is rendeztek itt..... Maximus
- g) Kr. e. 366-tól a városi rend, az ünnepek megrendezése volt a feladatuk, curilis.
- h) A köztársaság idején az állam élén álló 2 hivatalnok.
- i) Ők haladtak a consulok, a diktátorok előtt, és ők vitték a római hatalom szimbólumait, a vesszőnyalábot (fasces), ill. az ebbe szúrt bárdot.
- j) Tanács. Ötszázak tanácsa az ókori Athénban.
- k) Gazdag ókori római város, melyet vulkánkitörés pusztított el 79-ben. Ifj. Plinius leírásaiból is ismerhetjük.



m-n) Magyarázd meg röviden a függőleges sorban található fogalmat!
